

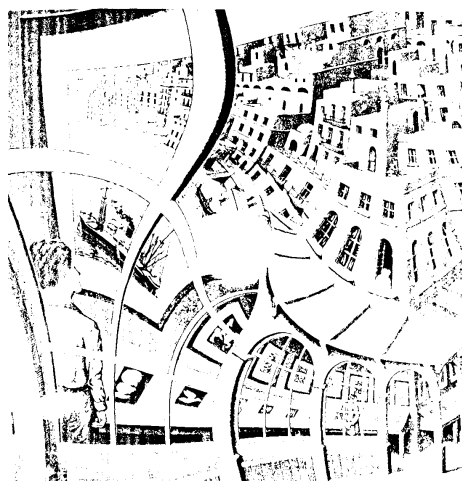


Übungen in AlgGeo \diamond Exercices en AlgGéo \diamond Type B1 \diamond I / 5

Probl. 1 Suche Vektoren in den folgenden Zeichnungen (Zeichnungsübungen nach Drucken M.C. Escher):

- *Chercher des vecteurs dans les dessins suivants (exercices de dessin d'après des impressions de M.C. Escher):*



Bildnachweis: Handzeichnungs- und Proportionierungsübungen in starker Vergrößerung nach vorgelegenen Graphikausschnitten von M.C. Escher im Rahmen eines Zeichnungskurses (KGS BS 1977). Abweichungen von den Proportionen der Originalen liegen in der Natur der Handzeichnung.

WIR